

# ใบงาน

## การบวกจำนวนที่มีผลลัพธ์ไม่เกิน 20

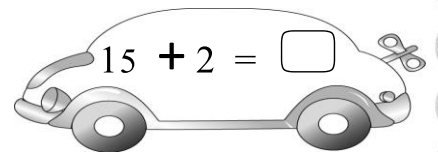
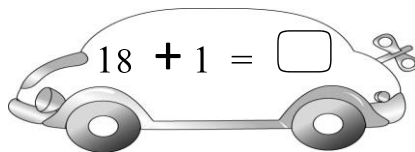
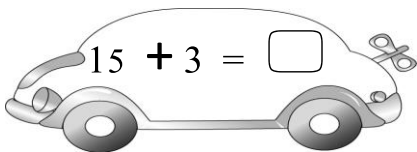
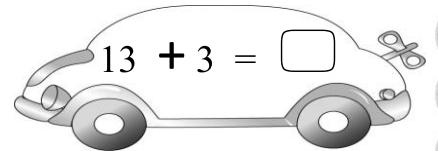
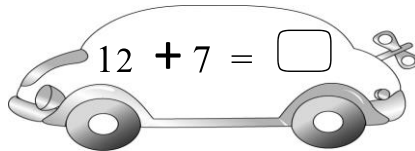
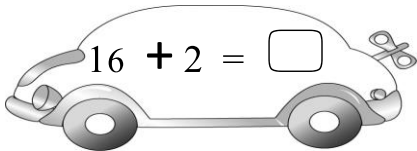
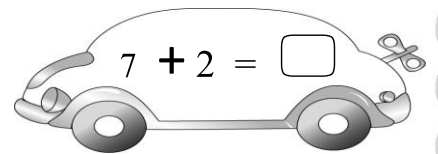
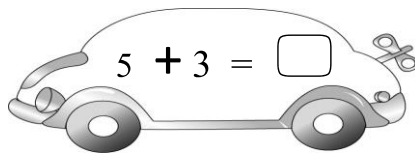
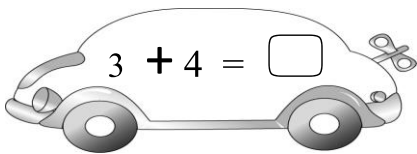
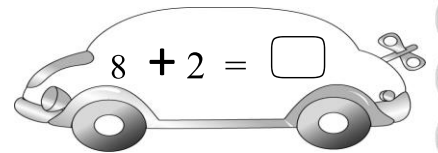
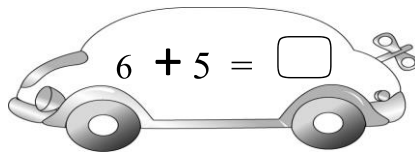
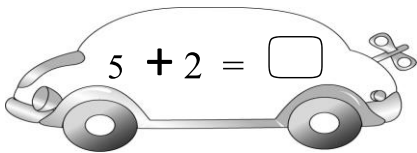
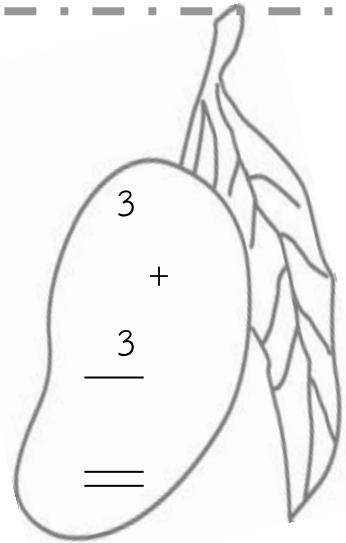
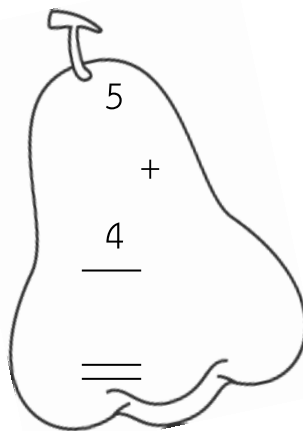
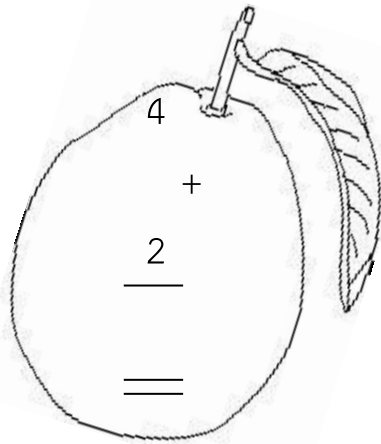
15



วันที่ .....

ชื่อ ..... ชั้น ป.1 เลขที่ .....

จงหาผลบวก



ใบงาน



เขียนประโยคสัญลักษณ์  
การบวก

10

วันที่ .....

ชื่อ ..... ชั้น ป.1 เลขที่ .....

เขียนประโยคสัญลักษณ์และสรุปคำตอบ

1. เก้าอี้วางอยู่ 8 ตัว ยกมาเพิ่มอีก 4 ตัว รวมเป็นเก้าอี้กี่ตัว

\_\_\_\_\_

ตอบ

2. แม่คั้นน้ำส้มไว้ 8 แก้ว คั้นน้ำมะนาวไว้ 5 แก้ว รวมเป็นน้ำส้มและน้ำมะนาวกี่แก้ว

\_\_\_\_\_

ตอบ

3. แอมซื้อขนมไปแล้ว 5 บาท ยังเหลืออีก 7 บาท เดิมแอมมีเงินกี่บาท

\_\_\_\_\_

ตอบ

4. อี้มใช้สมุดไป 10 เล่ม ขณะนี้เหลือ 2 เล่ม อี้มมีสมุด กี่เล่ม

\_\_\_\_\_

ตอบ

5. มีนักเรียนชาย 11 คน นักเรียนหญิง 9 คน มีนักเรียนทั้งหมดกี่คน

\_\_\_\_\_

ตอบ

