

แบบทดสอบก่อนเรียน-หลังเรียน



ให้นักเรียนทำเครื่องหมาย X หน้าข้อที่ถูกที่สุด

<p>1. จากโจทย์ ในสวนสัตว์มีลิง 41 ตัว มี กวาง 32 ตัว สวนสัตว์นี้มีสัตว์ทั้งหมด กี่ตัว ข้อใดคือสิ่งที่โจทย์กำหนด</p> <p>ก. ในสวนสัตว์มีลิง 41 ตัว</p> <p>ข. ในสวนสัตว์มีกวาง 41 ตัว</p> <p>ค. สวนสัตว์นี้มีสัตว์ทั้งหมด กี่ตัว</p>	<p>2. จากโจทย์ แม่มีน้ำดื่ม 24 ขวด ซื้อ เพิ่มอีก 10 ขวด แม่มีน้ำดื่มทั้งหมด กี่ขวด ข้อใดคือสิ่งที่โจทย์กำหนด</p> <p>ก. แม่มีน้ำดื่ม 10 ขวด</p> <p>ข. แม่มีน้ำดื่ม 24 ขวด</p> <p>ค. แม่มีน้ำดื่มทั้งหมดกี่ขวด</p>
<p>3. จากโจทย์ พ่ออายุ 34 ปี แม่อายุ 25 ปี พ่อและแม่มีอายุรวมกันกี่ปี ข้อใดคือสิ่งที่ โจทย์ถาม</p> <p>ก. พ่อและแม่มีอายุรวมกันกี่ปี</p> <p>ข. พ่ออายุ 34 ปี</p> <p>ค. แม่อายุ 25 ปี</p>	<p>4. จากโจทย์ ป้ามีไข่ไก่ 14 ฟอง ซื้อ มาเพิ่มอีก 21 ฟอง ป้ามีไข่ไก่ ทั้งหมด กี่ฟอง ข้อใดคือสิ่งที่โจทย์ถาม</p> <p>ก. ป้ามีไข่ไก่ 14 ฟอง</p> <p>ข. ซื้อมาเพิ่มอีก 21 ฟอง</p> <p>ค. ป้ามีไข่ไก่ ทั้งหมดกี่ฟอง</p>
<p>5. ปีกอ่านหนังสือไปแล้ว 52 หน้า ต่อมาอ่านได้อีก 26 หน้า ปีกอ่าน หนังสือทั้งหมดกี่หน้า</p> <p>ก. 28 หน้า</p> <p>ข. 78 หน้า</p> <p>ค. 86 หน้า</p>	<p>6. แอ้วมีเงิน 43 บาท อู๋มีเงิน มากกว่า แอ้ว 15 บาท อู๋มีเงินกี่บาท</p> <p>ก. 38 บาท</p> <p>ข. 58 บาท</p> <p>ค. 85 บาท</p>

<p>7. โด่งจับปลาได้ 22 ตัว เพื่อนจับได้ 17 ตัว สองคนจับปลาได้ทั้งหมดกี่ตัว</p> <p>ก. 19 ตัว</p> <p>ข. 29 ตัว</p> <p>ค. 39 ตัว</p>	<p>8. น้อยซื้อขนมมา 23 ชิ้น เพื่อนให้อีก 12 ชิ้น น้อยมีขนมทั้งหมดกี่ชิ้น</p> <p>ก. 25 ชิ้น</p> <p>ข. 35 ชิ้น</p> <p>ค. 53 ชิ้น</p>
<p>9. ชั้น ป.1 มีนักเรียนชาย 16 คน มีนักเรียนหญิง 23 คน รวมมีนักเรียนชั้น ป.1 กี่คน</p> <p>ก. 39 คน</p> <p>ข. 49 คน</p> <p>ค. 59 คน</p>	<p>10. แบ่งมีดินสอ 17 แท่ง ครูให้อีก 12 แท่ง แบ่งมีดินสอทั้งหมดกี่แท่ง</p> <p>ก. 27 แท่ง</p> <p>ข. 28 แท่ง</p> <p>ค. 29 แท่ง</p>

เฉลยแบบทดสอบ

- | | | | | |
|------|------|------|------|-------|
| 1. ก | 2. ข | 3. ก | 4. ค | 5. ข |
| 6. ข | 7. ค | 8. ข | 9. ก | 10. ค |

แบบฝึกที่ 4

ชื่อ ชั้น เลขที่



ให้นักเรียนวิเคราะห์โจทย์ปัญหาต่อไปนี้

1. นำดอกบัวมาบูชา สามสิบห้าที่มาไหว
สิบสามดอกพี่เพิ่มให้ รวมเท่าไรที่นำมา

สิ่งที่โจทย์กำหนด.....
.....

สิ่งที่โจทย์ถาม.....
.....

ประโยคสัญลักษณ์.....

วิธีทำ

.....


.....

ตอบ

ตรวจคำตอบ

2 คะแนน

2 คะแนน



2. ดอกทิวลิปสีบสองดอก พืมาบอกเพิ่มสิบสี่
รวมนับแล้วทั้งหมดนี้ ทิวลิปมีกี่ดอกเอย

สิ่งที่โจทย์กำหนด.....

.....

สิ่งที่โจทย์ถาม.....

ประโยคสัญลักษณ์.....

วิธีทำ

.....



.....

ตอบ

ตรวจคำตอบ

2 คะแนน

2 คะแนน



3. มีมะลิยี่สิบสี่ มีจำปี่สี่สิบห้า
มาช่วยกันนับสิว่า รวมแล้วหนาได้เท่าไร

สิ่งที่โจทย์กำหนด.....

.....

สิ่งที่โจทย์ถาม.....

ประโยคสัญลักษณ์.....

วิธีทำ

.....

.....

ตอบ

ตรวจคำตอบ

2 คะแนน

2 คะแนน



4 . สีสาวดีสี่สิบห้า เก็บให้ป่าอีกสิบสาม
 คุณป่าจึงขอลาม ดอกไม้งามรวมเท่าไร

สิ่งที่โจทย์กำหนด.....

.....

สิ่งที่โจทย์ถาม.....

ประโยคสัญลักษณ์.....

วิธีทำ

.....



.....

ตอบ

ตรวจคำตอบ

2 คะแนน

2 คะแนน



5. ดอกดาวเรืองสีสวยสด มีทั้งหมดอยู่เท่าไร
 เดิมสิบสี่พีเพิ่มให้ น้องนับได้อีกสิบสาม

สิ่งที่โจทย์กำหนด.....

.....

สิ่งที่โจทย์ถาม.....

ประโยคสัญลักษณ์.....

วิธีทำ

.....

.....

ตอบ

ตรวจคำตอบ

2 คะแนน

2 คะแนน



ใบงานที่ 12.1

ให้นักเรียนวิเคราะห์โจทย์ปัญหา

1. พ่อเลี้ยงหมู 11 ตัว และเลี้ยงควายอีก 13 ตัว พ่อเลี้ยงสัตว์ทั้งหมดกี่ตัว

โจทย์กำหนด

.....
.....

โจทย์ถาม

.....

2. ฉันมีเงิน 25 บาท พี่ให้อีก 20 บาท ฉันมีเงินรวมทั้งหมดกี่บาท

โจทย์กำหนด

.....
.....

โจทย์ถาม

.....

ใบงานที่ 12.2

ให้นักเรียนวิเคราะห์โจทย์ปัญหา แสดงวิธีทำและตรวจคำตอบ

เลี้ยงเป็ดสิบสองตัว และเลี้ยงวัวอีกสิบสี่

คุณหนูช่วยรวมที ว่าสัตว์นี้มีเท่าไร

โจทย์กำหนด

.....

.....

โจทย์ถาม

.....

ประโยคสัญลักษณ์

วิธีทำ

.....

.....

.....

ตอบ

ตรวจคำตอบ

ชื่อ ชั้น ป.1 เลขที่