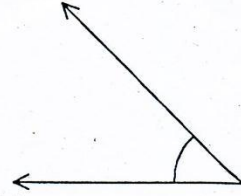


ใบงานที่ 4 มุมชนิดต่างๆ

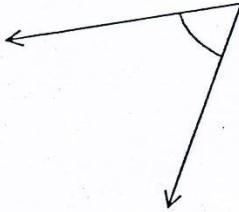
จงบอกชนิดของมุมต่อไปนี้



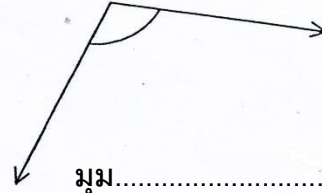
มุม.....



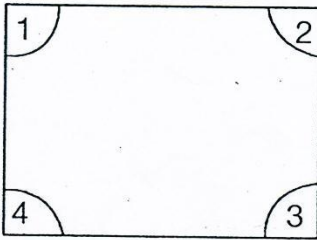
มุม.....



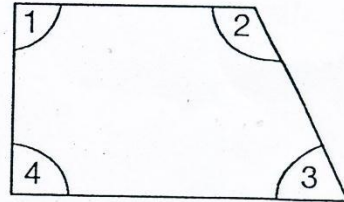
มุม.....



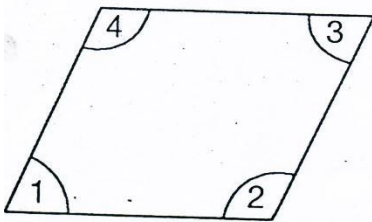
มุม.....



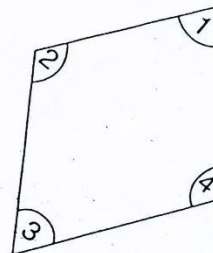
1. มุม.....
2. มุม.....
3. มุม.....
4. มุม.....



1. มุม.....
2. มุม.....
3. มุม.....
4. มุม.....



1. มุม.....
2. มุม.....
3. มุม.....
4. มุม.....



1. มุม.....
2. มุม.....
3. มุม.....
4. มุม.....



คะแนนประเมิน

20

ผู้ประเมิน

วันที่...../...../.....