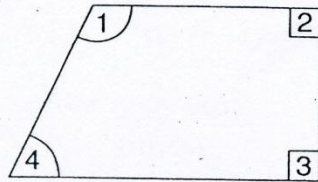
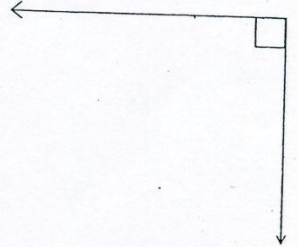
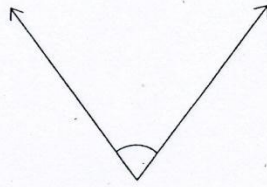
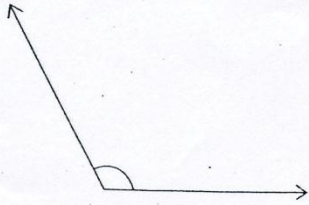
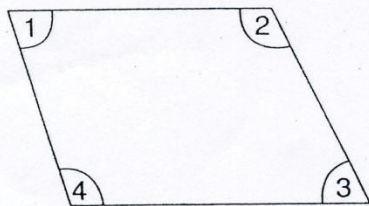


### ใบงานที่ 3


จงใช้กระดาษที่พับเป็นมุมฉากวัดมุมของรูปต่อไปนี้ แล้วตอบว่า เป็นมุมแหลม มุมฉาก หรือมุมป้าน



มุม 1 เป็น \_\_\_\_\_  
มุม 2 เป็น \_\_\_\_\_  
มุม 3 เป็น \_\_\_\_\_  
มุม 4 เป็น \_\_\_\_\_



มุม 1 เป็น \_\_\_\_\_  
มุม 2 เป็น \_\_\_\_\_  
มุม 3 เป็น \_\_\_\_\_  
มุม 4 เป็น \_\_\_\_\_



มุม 1 เป็น \_\_\_\_\_  
มุม 2 เป็น \_\_\_\_\_  
มุม 3 เป็น \_\_\_\_\_  
มุม 4 เป็น \_\_\_\_\_



คะแนนประเมิน

20

.....ผู้ประเมิน

วันที่...../...../.....