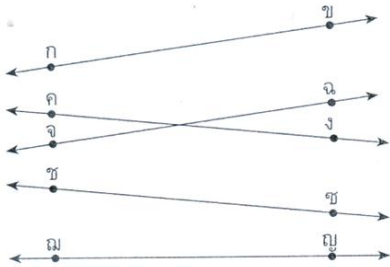


ใบงานที่ 2 จงหาว่าส่วนของเส้นตรงที่กำหนดให้ขนานกับส่วนของเส้นตรงใด และเขียนสัญลักษณ์

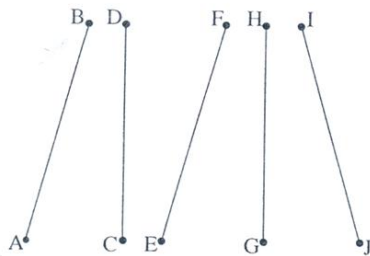


.....ขนานกับ.....

เขียนแทนด้วยสัญลักษณ์.....

.....ขนานกับ.....

เขียนแทนด้วยสัญลักษณ์.....

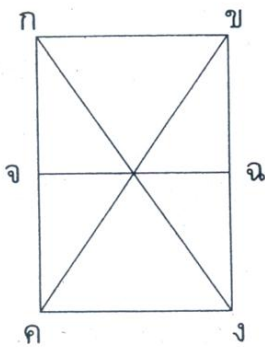


.....ขนานกับ.....

เขียนแทนด้วยสัญลักษณ์.....

.....ขนานกับ.....

เขียนแทนด้วยสัญลักษณ์.....



.....ขนานกับ.....


เขียนแทนด้วยสัญลักษณ์.....

.....ขนานกับ.....

เขียนแทนด้วยสัญลักษณ์.....

.....ขนานกับ.....

เขียนแทนด้วยสัญลักษณ์.....



.....ผู้ประเมิน

วันที่...../...../.....