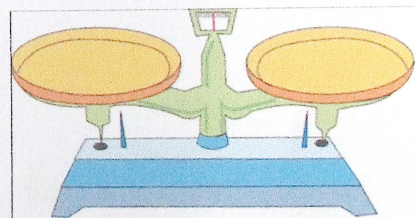
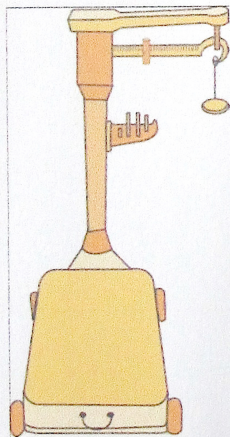




ใบงาน

เรื่อง เครื่องชั่งที่มีหน่วยมาตรฐาน

คำสั่ง ให้นักเรียนเลือกเครื่องชั่งให้ตรงกับภาพที่กำหนดให้

เครื่องชั่งสองแขน เครื่องชั่งน้ำหนักตัว เครื่องชั่งสปริง เครื่องชั่งแบบตุ้มถ่วง



ชื่อ.....ชั้น.....เลขที่.....